

كود العلامَةُ
اسْمُ الطَّالِبِ: كود:
المَدْرَسَةُ: رَقْمُ الهَاتِفِ:
البَلَدُ: رَقْمُ الجَوَّالِ:
اسْمُ المُرَاقِبِ: رَقْمُ العُرْفَةِ:

مُدَّةُ الاختِبَارِ سَاعَةٌ وَنِصْفٌ
مَبْنَى الاختِبَارِ وَتَقْسِيمُ الدَّرَجَاتِ

100 دَرَجَةٌ	مُسَابَقَةُ احْسَبْهَا صَح
100 دَرَجَةٌ	الاختِبَارُ المَحْوَسَبُ
300 دَرَجَةٌ	الاختِبَارُ التَّحْرِيرِيُّ
500 دَرَجَةٌ	المَجْمُوعُ

تَعْلِيمَاتٌ عَامَّةٌ

- * رَكَزُوا إِجاباتِكُمْ عَنِ الأَسْئَلَةِ المُتَعَدِّدَةِ الخِيَارَاتِ فِي صَفْحَةِ الإِجاباتِ المُرَفَّعةِ فِي آخِرِ الاختِبَارِ.
- * تَذَكَّرُوا ! لا تَخَافُوا إِذا لَمْ تَعْرِفُوا إِجاباتِ بَعْضِ الأَسْئَلَةِ، فَأَجِيبُوا عَن جَمِيعِ الأَسْئَلَةِ حَتَّى لَوْ لَمْ تَكُونُوا مُتَأَكِّدِينَ مَن صَحَّتِها، خَمَّنُوا الجَوَابَ وَلا تَتْرَكُوا سُؤالا بَلا جَوَابٍ.
- * سَجَّلُوا تَفاصِيلَكُم عَلى هَذِهِ الصَّفْحَةِ وَعَلى رَأْسِ صَفْحَةِ الإِجاباتِ الَّتِي فِي آخِرِ الاختِبَارِ.
- * مَمْنُوعٌ اسْتِعْمالُ الحاسِبَةِ.

نَرْجُو لَكُم النِّجَاحَ

جَمِيعُ الحُقُوقِ مَحْفُوظَةٌ لِجَمْعِيَّةِ إِبداعِ

1.05.2026

صَفْحَةٌ فَارِغَةٌ
انْتَقِلِ لِلصَّفْحَةِ التَّالِيَةِ

لِلصَّفِّ الخَامِسِ 2025 - 2026

يَحْوِي الاختِبَارُ 30 سُؤْلاً مُتَعَدِّدَ الخِيَارَاتِ مِنْ 1 - 30، (300 دَرَجَةِ). اخْتَرِ الإِجَابَةَ الصَّحِيحَةَ، ثُمَّ أَحِطْ بِدَائِرَةِ الحَرْفِ الَّذِي يُمَثِّلُ الإِجَابَةَ الصَّحِيحَةَ لِكُلِّ سُؤَالٍ فِي الصَّفْحَةِ الأَخِيرَةِ. (لِكُلِّ سُؤَالٍ 10 دَرَجَاتٍ).

1. أَيُّ تَمَرِينٍ جَوَابُهُ هُوَ الأَصْغَرُ؟

(ب) $202 - 6$

(أ) $2 + 0 + 2 + 6$

(د) $2 \times 0 \times 2 \times 6$

(ج) $202 : 6$

2. كَمْ يُسَاوِي 25% مِنْ 220؟

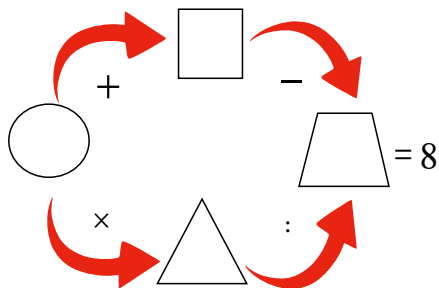
(د) 85

(ج) 75

(ب) 65

(أ) 55

3. اخْتَارُوا أَرْبَعَةَ أَعْدَادٍ مِنَ المَجْمُوعَةِ {1، 2، 3، 4، 5}، وَسَجِّلُوهَا فِي الأشْكَالِ الهندِسيَّةِ لِتَحْصُلُوا عَلَى قِضِيَّتِي صَوَابٍ فِي اتِّجَاهِي الأَسْهُمِ. أَيُّ عَدَدٍ سَجَلْتُمْ فِي الدَّائِرَةِ؟



(ب) 4

(أ) 5

(د) 2

(ج) 3

4. احْسِبُوا $64 : 8 \times 4 =$

(د) 36

(ج) 32

(ب) 24

(أ) 2

5. اخْتَارَتْ كَوْتَرُ عَدَدًا وَطَرَحَتْ مِنْهُ 17. ثُمَّ ضَرَبَتْ النَتِيْجَةَ بِـ 8 فَحَصَلَتْ عَلَى 400.
مَا العَدَدُ الَّذِي اخْتَارَتْهُ كَوْتَرُ ؟

أ) 63 ب) 65 ج) 67 د) 69

6. وَزَعَتْ شَامُ 185 حَبَّةَ مِشْمِشٍ عَلَى صَدِيقَاتِهَا. حَصَلَتْ كُلُّ صَدِيقَةٍ عَلَى 7 حَبَّاتٍ
مِشْمِشٍ وَبَقِيَتْ فِي النِّهَايَةِ 3 حَبَّاتٍ. كَمْ كَانَ عَدَدُ صَدِيقَاتِهَا ؟

أ) 23 ب) 24 ج) 25 د) 26

7. أَمَامَكُمْ الهَدَايَا الَّتِي اشْتَرْتَهَا شَهْدٌ لِأَبْنَائِهَا. كَمْ المَبْلَغُ الَّذِي تَسْتَرِدُّهُ شَهْدٌ إِذَا
دَفَعَتْ 200 ش ؟



67.9 ش



49.6 ش



78.3 ش


أ) 4.2 ش ب) 5.4 ش ج) 5.6 ش د) 14.2 ش

8. مَا الوَقْتُ بَعْدَ 15 سَاعَةً مِنَ السَّاعَةِ 15 : 00 ؟

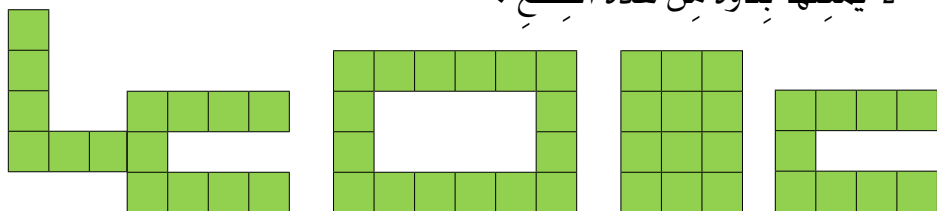
أ) 05 : 00 ب) 06 : 00 ج) 07 : 00 د) 08 : 00

9. احسبوا $100 - (108 : 54 + 63) =$

- (أ) 35 (ب) 37 (ج) 39 (د) 41

10. كل القطع التركيبية التي مع إيناس شكلها . أي شكل من الآتي

لا يمكنها بناؤه من هذه القطع ؟



- (أ) (ب) (ج) (د)

11. أكملوا العدد الناقص لتحصلوا على قضية صواب $4 = (\quad - 467) : 200$ ؟

- (أ) 50 (ب) 57 (ج) 407 (د) 417


12. ركض عمر على محيط الحديقة 6 مرات، وقطع مسافة 1,200 م. وركض خليل

على محيط نفس الحديقة 9 مرات. كم متراً قطع خليل ؟

- (أ) 1,700 م (ب) 1,800 م (ج) 1,900 م (د) 2,000 م

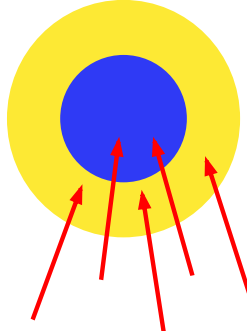
لِلصَّفِّ الخَامِسِ 2026 - 2025

13. شارِكْ عَائِدٌ فِي لَعْبَةِ «إِصَابَةُ الهَدَفِ». نَفَّذَ ثَلَاثَ مُحَاوَلَاتٍ، وَفِي كُلِّ وَاحِدَةٍ مِنْهَا رَمَى خَمْسَةَ أَسْهُمٍ. حَصَلَ فِي المُحَاوَلَةِ الأُولَى عَلَى 35 نُقْطَةً، وَحَصَلَ فِي المُحَاوَلَةِ الثَّانِيَةِ عَلَى 51 نُقْطَةً. كَمْ نُقْطَةً سَيَحْصُلُ عَلَيْهَا فِي المُحَاوَلَةِ الثَّالِثَةِ ؟



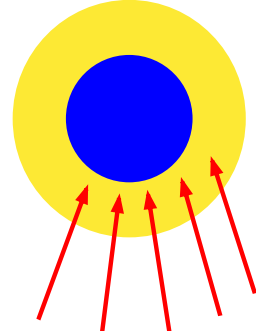
3

(د) 75



2

(ج) 73



1

(ب) 68

(أ) 65



14. تَمَنُّ تَذَكِّرَةُ الدُّخُولِ إِلَى مُنْتَجَعِ السَّبَّاحَةِ 50 ش. فِي أَحَدِ الأَيَّامِ أَعْلَنَ المُنْتَجِعُ عَن تَنْزِيلاتٍ، اشْتَرَى تَذَكِّرَتَيْنِ وَاحْصَلَ عَلَى الثَّالِثَةِ مَجَّانًا. اشْتَرَتْ سَمَاحٌ لِصَدِيقَاتِهَا

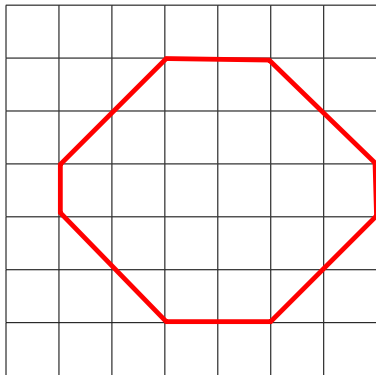
10 تَذَاكِرٍ. كَمْ دَفَعَتْ سَمَاحٌ تَمَنَ التَّذَاكِرِ الَّتِي اشْتَرَتْهَا ؟

(د) 500 ش

(ج) 450 ش

(ب) 350 ش

(أ) 300 ش



15. كَمَّ مِسَاحَةُ المِضْلَعِ الظَّاهِرِ أَمَامَكُم. مِقْيَاسُ

كُلِّ مَرَبَّعٍ صَغِيرٍ فِيهِ 1 سَم × 1 سَم ؟

(أ) 20 سَم² (ب) 21 سَم²

(ج) 22 سَم² (د) 23 سَم²

16. احْسِبُوا $15 \frac{14}{16} + 7 \frac{5}{8} =$

(د) $23 \frac{9}{16}$

(ج) $23 \frac{19}{24}$

(ب) $22 \frac{19}{24}$

(أ) $23 \frac{1}{2}$

17. احْسِبُوا $450 + (370 - 120) \times 4 \frac{1}{5} =$

(د) 1,500

(ج) 1,450

(ب) 1,400

(أ) 1,350

18. لَدَى مَيِّسَاءَ 10 أَخْتَامٍ. كُلُّ خَتَمٍ خَاصٌّ بِرَقْمٍ وَاحِدٍ فَقَطْ مِنَ الأَرْقَامِ:

0، 1، 2، 3، 4، 5، 6، 7، 8، 9. كَمَّ خَتَمًا اسْتَعْمَلَتْ مَيِّسَاءُ عِنْدَمَا سَجَلَتْ

؟ 2 5 1 2 2 0 2 5

(د) 8

(ج) 6

(ب) 5

(أ) 4

لِلصَّفِّ الْخَامِسِ 2026 - 2025



19. يَقَطُّعُ الْحِصَانُ مَسَافَةً 150 كَم فِي سَاعَتَيْنِ.
كَمْ كِيلُومِتْرًا يَقَطُّعُ فِي 5 سَاعَاتٍ ؟
- (أ) 325 كَم
(ب) 350 كَم
(ج) 375 كَم
(د) 400 كَم



20. جَلَسَتْ مَجْمُوعَةٌ مِنْ طَالِبَاتِ الصَّفِّ
فِي دَائِرَةٍ. جَلَسَتْ دِينَا فِي الْمَكَانِ الرَّابِعِ
عَنْ يَسَارِ حَلَا، وَفِي الْمَكَانِ السَّابِعِ عَنْ
يَمِينِ حَلَا. كَمْ عَدَدُ الطَّالِبَاتِ فِي هَذِهِ
الْمَجْمُوعَةِ ؟

(أ) 10 (ب) 11 (ج) 12 (د) 13

21. أَكْمِلُوا الْعَدَدَ النَّاقِصَ لِتَحْصُلُوا عَلَى قَضِيَّةٍ صَوَابٍ $5 = 2\frac{1}{3} + \underline{\hspace{1cm}} + 1\frac{1}{6}$ ؟

(أ) $1\frac{1}{2}$ (ب) $1\frac{1}{3}$ (ج) $1\frac{1}{6}$ (د) $1\frac{2}{3}$

22. تَمَشَى الأُسُودُ الثَّلَاثَةُ لَيْثٌ وُورِدُ وَسَبْعٌ. لَيْثُ الأَوَّلُ، وُورِدٌ فِي الوَسَطِ
وَسَبْعٌ فِي الآخِرِ. وُزَنَ لَيْثٌ يَزِيدُ بِـ 100 كِغَمٍ عَنَ وُزَنِ سَبْعٍ. وُوزُنُ وُورِدٍ أَقَلُّ
بِـ 100 كِغَمٍ عَنَ وُزَنِ سَبْعٍ. أَيُّ مِنَ الصُّوَرِ الآتِيَةِ يَصِفُ تَرْتِيبَ لَيْثٍ وُورِدٍ
وَسَبْعٍ أَثْنَاءَ مَشْيِهِمْ ؟



(ب)



(أ)



(د)



(ج)

23. سَأَلَتْ حَنَانُ صَدِيقَتَهَا لَيْلَى عَنَ عُمَرِ طِفْلِهَا أَحْمَدَ. أَجَابَتْ عُمَرُ أَقَلُّ مَن
9 أَسَابِيعٍ بِـ 3 أَيَّامٍ. كَمَ عُمَرُ أَحْمَدَ ؟

(د) 64 يَوْمًا

(ج) 62 يَوْمًا

(ب) 60 يَوْمًا

(أ) 59 يَوْمًا

24. أَمَامَكُمْ تَمَرِينُ طَرَحَ لِعدَدَيْنِ مَن رَقْمَيْنِ. كَمَ مَجْمُوعُ الرَّقْمَيْنِ m وَ n لِتَحْصُلُوا
عَلَى قَضِيَّةِ صَوَابٍ ؟

$$\boxed{m} \boxed{4} - \boxed{3} \boxed{n} = \boxed{3} \boxed{8}$$

(د) 13

(ج) 12

(ب) 10

(أ) 7

25. زَرَعَ عَامِرٌ شَجَرَةَ زَيْتُونٍ وَكَانَ طَوْلُهَا 1.55 م. يَزْدَادُ طَوْلُ هَذِهِ الشَّجَرَةِ 35 سَمِ كُلِّ سَنَةٍ. كَمْ يُصْبِحُ طَوْلُهَا بَعْدَ 6 سَنَوَاتٍ ؟
- أ) 3.45 م ب) 3.55 م ج) 3.65 م د) 3.75 م



26. زَيْنَةُ أَصْغَرُ مِنْ أُخْتِهَا مِنْ بَسَنَتَيْنِ، وَأَكْبَرُ مِنْ أَخِيهَا عَلَاءٍ بِـ 5 سَنَوَاتٍ. كَمْ مَجْمُوعُ أَعْمَارِ الإِخْوَةِ الثَّلَاثَةِ مَعًا إِذَا عَلِمْتُمْ أَنَّ عُمَرَ مِنْهُ 12 سَنَةً ؟

- أ) 24 ب) 25
ج) 26 د) 27



27. لَدَى آيَةِ عُلْبَةٍ فِيهَا 60 تَمْرَةً. تَأْكُلُ آيَةُ يَوْمِيًّا 3 تَمَرَاتٍ. أَكَلَتِ التَّمْرَةَ رَقْمَ 33 يَوْمَ الأَحَدِ. فِي أَيِّ يَوْمٍ بَدَأَتْ آيَةُ بِأَكْلِ التَّمْرِ ؟

- أ) الثَّلَاثاء ب) الخَمِيسَ
ج) السَّبْتِ د) الأَحَدِ



28. يَعمَلُ سَعيدٌ وَكَريمٌ في مَحَلٍّ لِتَركِيبِ
الدَّرَاجَاتِ الهَوَائِيَّةِ. مُقَابِلَ كُلِّ ثَلَاثِ
دَرَاجَاتٍ يُرَكِّبُهَا سَعيدٌ يُرَكِّبُ كَريمٌ أَرَبَعَ
دَرَاجَاتٍ. رَكَبَا مَعًا خِلالَ يَومٍ 42 دَرَاجَةً.
كَمْ عَدَدُ الدَّرَاجَاتِ الَّتِي رَكَبَهَا كَريمٌ زِيَادَةً عَنِ الَّتِي رَكَبَهَا سَعيدٌ ؟

- أ) 6 ب) 7 ج) 8 د) 9

29. يَوجَدُ في خَزَانٍ 300 لِترٍ مِنَ المَاءِ، وَهِيَ تُشكِّلُ $\frac{5}{6}$ مِنْ حَجْمِ الخَزَانِ. كَمْ لِترًا
يَحوي الخَزَانُ عِندَمَا يَكُونُ مَلِيئًا بِالمَاءِ ؟

- أ) 320 لِترًا ب) 330 لِترًا ج) 340 لِترًا د) 360 لِترًا

30. يَرغَبُ سَليمٌ السَّفَرَ لِإِدَاءِ العُمَرَةِ الَّتِي تُكَلِّفُ 3,270 ش. كانَ مَعَهُ 840 ش.
يَعمَلُ في حَانوتٍ لِلخُضارِ وَيَكسِبُ يَومِيًا 270 ش. كَمْ يَومًا عَلَيهِ أَنْ يَعمَلَ لِكَي
يَكُونُ مَعَهُ مَبْلَغُ العُمَرَةِ كَامِلًا ؟

- أ) 7 ب) 8 ج) 9 د) 10

5

حَفْعِيَّةُ إِدْعَاءِ لِتَطْوِيرِ التَّقَاةِ وَالتَّعْلِيمِ
مُسَابَقَةُ الرِّيَاضِيَّاتِ الْقُطْرِيَّةِ الْخَامِسَةُ وَالْعِشْرُونَ

لِلصَّفِّ الْخَامِسِ 2025 - 2026



5

حَفْعِيَّةُ إِدْعَاءِ لِتَطْوِيرِ التَّقَاةِ وَالتَّعْلِيمِ
مُسَابَقَةُ الرِّيَاضِيَّاتِ الْقُطْرِيَّةِ الْخَامِسَةُ وَالْعِشْرُونَ

لِلصَّفِّ الْخَامِسِ 2025 - 2026



إِجَابَاتُ مُسَابَقَةِ الرِّيَاضِيَّاتِ الْقَطْرِيَّةِ الْخَامِسَةِ وَالْعِشْرِينَ لِلصَّفِّ الْخَامِسِ

رَقْمُ السُّؤَالِ	ضَعْ دَائِرَةً حَوْلَ الْحَرْفِ الَّذِي يُمَثِّلُ الْإِجَابَةَ الصَّحِيحَةَ		
1	أ	ب	ج <input type="radio"/>
2	<input type="radio"/> أ	ب	ج
3	أ	<input type="radio"/> ب	ج
4	أ	ب	<input type="radio"/> ج
5	أ	ب	<input type="radio"/> ج
6	أ	ب	<input type="radio"/> ج
7	<input type="radio"/> أ	ب	ج
8	أ	<input type="radio"/> ب	ج
9	<input type="radio"/> أ	ب	ج
10	أ	ب	<input type="radio"/> ج
11	أ	ب	<input type="radio"/> ج
12	أ	<input type="radio"/> ب	ج
13	أ	ب	<input type="radio"/> ج
14	أ	<input type="radio"/> ب	ج
15	أ	ب	<input type="radio"/> ج
16	<input type="radio"/> أ	ب	ج
17	أ	ب	<input type="radio"/> ج
18	<input type="radio"/> أ	ب	ج
19	أ	ب	<input type="radio"/> ج
20	أ	<input type="radio"/> ب	ج
21	<input type="radio"/> أ	ب	ج
22	أ	ب	<input type="radio"/> ج
23	أ	<input type="radio"/> ب	ج
24	أ	ب	<input type="radio"/> ج
25	أ	ب	<input type="radio"/> ج
26	أ	ب	<input type="radio"/> ج
27	أ	<input type="radio"/> ب	ج
28	<input type="radio"/> أ	ب	ج
29	أ	ب	<input type="radio"/> ج
30	أ	ب	<input type="radio"/> ج

لِلصَّفِّ الخَامِسِ 2025 - 2026

كود: اسْمُ الطَّالِبِ: المَدْرَسَةُ:

إِجَابَاتُ مُسَابَقَةِ الرِّيَاضِيَّاتِ القُطْرِيَّةِ الخَامِسَةِ وَالْعِشْرِينَ لِلصَّفِّ الخَامِسِ

رَقْمُ السُّؤَالِ	ضَعُ دَائِرَةً حَوْلَ الحَرْفِ الَّذِي يُمَثِّلُ الإِجَابَةَ الصَّحِيحَةَ		
1	أ	ب	ج
2	أ	ب	ج
3	أ	ب	ج
4	أ	ب	ج
5	أ	ب	ج
6	أ	ب	ج
7	أ	ب	ج
8	أ	ب	ج
9	أ	ب	ج
10	أ	ب	ج
11	أ	ب	ج
12	أ	ب	ج
13	أ	ب	ج
14	أ	ب	ج
15	أ	ب	ج
16	أ	ب	ج
17	أ	ب	ج
18	أ	ب	ج
19	أ	ب	ج
20	أ	ب	ج
21	أ	ب	ج
22	أ	ب	ج
23	أ	ب	ج
24	أ	ب	ج
25	أ	ب	ج
26	أ	ب	ج
27	أ	ب	ج
28	أ	ب	ج
29	أ	ب	ج
30	أ	ب	ج