

كود العلامَةُ
اسْمُ الطَّالِبِ: كود:
المَدْرَسَةُ: رَقْمُ الهَاتِفِ:
البَلَدُ: رَقْمُ الجَوَّالِ:
اسْمُ المُرَاقِبِ: رَقْمُ العُرْفَةِ:

مُدَّةُ الاختِبَارِ ساعةٌ وَنِصْفُ
مَبْنَى الاختِبَارِ وَتَقْسِيمُ الدَّرَجَاتِ

100 دَرَجَةٌ	مُسَابَقَةُ احْسَبْهَا صَح
100 دَرَجَةٌ	الاختِبَارُ المَحْوَسَبُ
300 دَرَجَةٌ	الاختِبَارُ التَّحْرِيرِيُّ
500 دَرَجَةٌ	المَجْمُوعُ

تَعْلِيمَاتٌ عَامَّةٌ

- * رَكَزُوا إِجاباتِكُمْ عَنِ الأَسْئَلَةِ المْتَعَدَّةِ الخِيارَاتِ فِي صَفْحَةِ الإِجاباتِ المُرْفَقَةِ فِي آخِرِ الاختِبَارِ.
- * تَذَكَّرُوا ! لا تَخَافُوا إِذا لَمْ تَعْرِفُوا إِجاباتِ بَعْضِ الأَسْئَلَةِ، فَأَجِيبُوا عَن جَمِيعِ الأَسْئَلَةِ حَتَّى لَوْ لَمْ تَكُونُوا مُتَأَكِّدِينَ مَن صَحَّتْها، خَمَّنُوا الجَوَّابَ وَلا تَتْرَكُوا سُؤالاً بِلا جَوَّابِ.
- * سَجَّلُوا تَفاصِيلَكُم عَلى هَذِهِ الصَّفْحَةِ وَعَلى رَأْسِ صَفْحَةِ الإِجاباتِ الَّتِي فِي آخِرِ الاختِبَارِ.
- * مَمْنُوعٌ اسْتِعْمالُ الحاسِبَةِ.

نَرْجُو لَكُم النِّجَاحَ

جَمِيعُ الحُقُوقِ مَحْفُوظَةٌ لِجَمْعِيَّةِ إِبداعِ

1.05.2026

صَفْحَةٌ فَارِغَةٌ
انْتَقِلِ لِلصَّفْحَةِ التَّالِيَةِ

يَحْوِي الْاِخْتِبَارُ 30 سُؤْلاً مُتَعَدِّدَ الْخِيَارَاتِ مِنْ 1 - 30، (300 دَرَجَةِ). اخْتَرِ الْإِجَابَةَ الصَّحِيحَةَ، ثُمَّ أَحِطْ بِدَائِرَةِ الْحَرْفِ الَّذِي يُمَثِّلُ الْإِجَابَةَ الصَّحِيحَةَ لِكُلِّ سُؤَالٍ فِي الصَّفْحَةِ الْأَخِيرَةِ. (لِكُلِّ سُؤَالٍ 10 دَرَجَاتٍ).

1. أَيُّ عَدَدٍ نَضَعُهُ دَاخِلَ الْبُخْتِ لِيُصْبِحَ التَّمْرِينُ صَحِيحًا ؟

$$23 + 57 - 4 \times (\square - 1) = 60$$

4 (أ) 5 (ب) 6 (ج) 8 (د)

2. احْسُبُوا $900 - (453 + 347) =$

100 (أ) 110 (ب) 203 (ج) 213 (د)

3. بِكَمْ يَزِيدُ الْعَدَدُ $5\frac{2}{3}$ عَنِ الْعَدَدِ $2\frac{1}{6}$ ؟

3 $\frac{1}{6}$ (أ) 3 $\frac{1}{2}$ (ب) 3 $\frac{1}{3}$ (ج) 3 $\frac{1}{4}$ (د)


4. مُعْطَى مَجْمُوعَةُ الْأَعْدَادِ {10 ، 12 ، 8 ، 40 ، 11 ، 17 ، 13}. اخْتَارُوا ثَلَاثَةَ

أَعْدَادٍ مُخْتَلِفَةٍ مِنْ هَذِهِ الْمَجْمُوعَةِ. اجْمَعُوا الْعَدَدَ الْأَوَّلَ مَعَ الثَّانِي، ثُمَّ اضْرِبُوا

مَجْمُوعَهُمَا بِالْعَدَدِ الثَّلَاثِ. مَا أَكْبَرُ نَتِيجَةِ يُمْكِنُ أَنْ تَحْصُلُوا عَلَيْهَا ؟

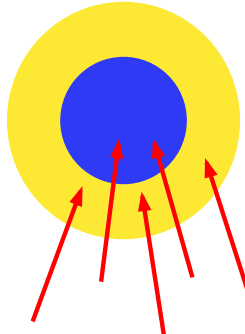
741 (أ) 854 (ب) 1,100 (ج) 1,200 (د)

5. شارك عايدٌ في لعبةٍ «إصابة الهدف». نفذ ثلاث محاولاتٍ، وفي كلِّ واحدةٍ منها رمى خمساً أسهم. حصل في المحاولة الأولى على 35 نقطة، وحصل في المحاولة الثانية على 51 نقطة. كم نقطة سيحصل عليها في المحاولة الثالثة؟



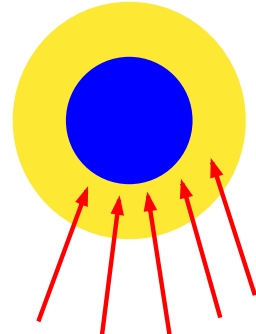
3

(د) 75



2

(ج) 73



1

(ب) 68

(أ) 65

6. إذا كانت مساحة قطعة الكفاة المربعة 64 سم²، فكَم طول ضلعها؟

(د) 9 سم

(ج) 8 سم

(ب) 7 سم

(أ) 6 سم

7. كم يساوي محيط مربع طول ضلعه $12\frac{1}{2}$ سم؟

(د) 50 سم

(ج) 49 سم

(ب) $48\frac{1}{2}$ سم(أ) $48\frac{1}{4}$ سم

8. يَظْهَرُ أَمَامَكُمْ جُزْءٌ مِنْ رُزْنَامَةِ أَحَدِ شُهُورِ السَّنَةِ. فِي أَيِّ يَوْمٍ مِنْ أَيَّامِ الْأُسْبُوعِ يَكُونُ الـ 28 مِنْ هَذَا الشَّهْرِ؟

الأحد	الاثنين	الثلاثاء	الأربعاء	الخميس	الجمعة	السبت
	1	2	3	4

(أ) الأحد (ب) الثلاثاء (ج) الخميس (د) الجمعة

9. اشْتَرَتْ رِيمٌ مِنَ الْمَبْلَغِ الَّذِي مَعَهَا باقَةٌ وَرَدَّ ثَمَنُهَا 76 ش، فَبَقِيَ مَعَهَا 19 ش. كَمْ كَانَ الْمَبْلَغُ الَّذِي مَعَهَا فِي الْبَدَايَةِ؟

(أ) 93 ش (ب) 95 ش (ج) 97 ش (د) 105 ش

10. تَبَدُّأُ دَوْرَةُ السَّبَاحَةِ بَعْدَ الدَّوَامِ الْمَدْرَسِيِّ بِسَاعَتَيْنِ وَ 25 دَقِيقَةً. مَتَى تَبَدُّأُ الدَّوْرَةُ إِذَا انْتَهَى الدَّوَامُ الْمَدْرَسِيُّ فِي 14 : 45؟

(أ) 16 : 55 (ب) 17 : 00 (ج) 17 : 05 (د) 17 : 10

11. اكْمَلُوا الْعَدَدَ النَّاقِصَ لِتَحْصُلُوا عَلَى قَضِيَّةٍ صَوَابٍ؟

$$903 - (174 + 459) = \underline{\hspace{2cm}} \times 18$$

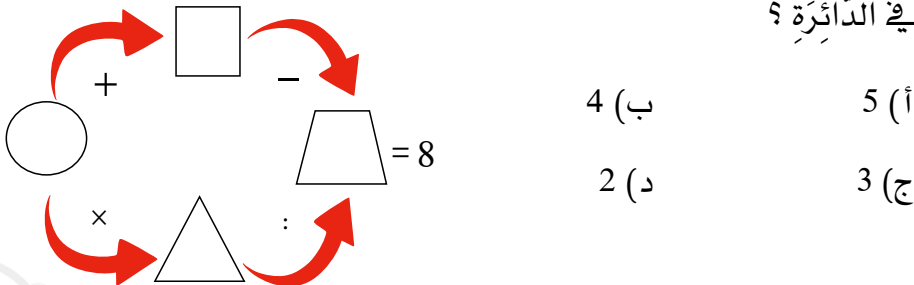
(أ) 15 (ب) 16 (ج) 18 (د) 20

12. مُعْطَى عَدَدٌ مُكَوَّنٌ مِنْ خَمْسَةِ أَرْقَامٍ مَجْمُوعُهَا 42. أَرْبَعَةٌ أَرْقَامٌ مِنْهَا مُتَسَاوِيَةٌ وَالرَّقْمُ الخَامِسُ مُخْتَلِفٌ. مَا الرَّقْمُ المُخْتَلِفُ ؟
- (أ) 4 (ب) 5 (ج) 6 (د) 7

13. كَمْ مُحِيطُ المُسْتَطِيلِ الظَّاهِرِ أَمَامَكُمْ ؟
- 53 سم
- 37 سم
- (أ) 160 سم (ب) 180 سم
(ج) 190 سم (د) 200 سم

14. كَمْ حَجْمُ قَاعَةِ الأَفْرَاحِ الَّتِي قِيَاسَاتُهَا 45 م، 60 م، 5 م ؟
- (أ) $13,500 \text{ م}^3$ (ب) $13,600 \text{ م}^3$ (ج) $13,800 \text{ م}^3$ (د) $14,000 \text{ م}^3$
15. كَمْ سُرْعَةُ الصَّقْرِ الَّذِي يَقَطَعُ مَسَافَةَ 1 كم فِي 12 ثَانِيَةً ؟
- (أ) 240 كم/س (ب) 260 كم/س (ج) 280 كم/س (د) 300 كم/س

16. اخْتَارُوا أَرْبَعَةَ أَعْدَادٍ مِنَ المَجْمُوعَةِ {1، 2، 3، 4، 5}، وَسَجِّلُوهَا فِي الأشْكَالِ الهندَسيَّةِ لِتَحْصُلُوا عَلَى قَضِيَّتِي صَوَابٍ فِي اتِّجَاهِي الأَسْهُمِ. أَيُّ عَدَدٍ سَجَّلْتُمْ فِي الدَّائِرَةِ ؟

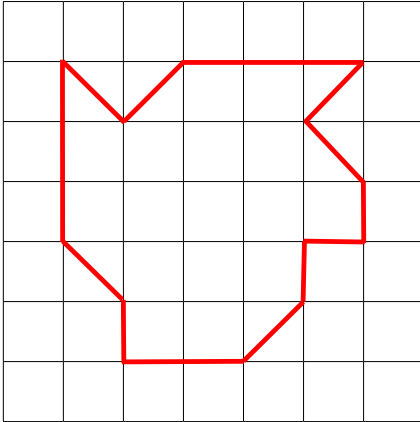


17. ما العَدَدُ الَّذِي إِذَا طَرَحْنَا مِنْهُ 13 أَصْبَحَتْ قِيَمَتُهُ خُمْسَ العَدَدِ 1,000 ؟

187 (أ) 203 (ب) 213 (ج) 5,013 (د)

18. ما العَدَدُ الَّذِي $\frac{5}{8}$ مِنْهُ يُسَاوِي 15 ؟

20 (أ) 24 (ب) 28 (ج) 32 (د)



19. كَمَّ مِسَاحَةُ المِضْلَعِ الظَّاهِرِ أَمَامَكُمْ. مِقْيَاسُ

كُلِّ مَرَبَّعٍ صَغِيرٍ فِيهِ 1 سَم × 1 سَم ؟

17 سَم² (أ) 18 سَم² (ب)

19 سَم² (ج) 20 سَم² (د)

20. أَيُّ مِنَ الأَعْدَادِ الآتِيَةِ يَقْبَلُ القِسْمَةَ عَلَى 9 دُونَ باقٍ ؟

98 (أ) 476 (ب) 2,953 (ج) 5,238 (د)

21. مُعْطَى $3 \text{ مكعبات} + 4 \text{ أسطوانات} = 1 \text{ مكعب} + 4 \text{ أسطوانات}$

كُلُّ المِكْعَبَاتِ لَهَا نَفْسُ الوِزْنِ، وَأيضًا كُلُّ الأَسْطُوانَاتِ لَهَا نَفْسُ الوِزْنِ. حَسَبَ هَذَا المَعْطَى أَيِّ عِلاقَةٍ هِيَ الصَّحِيحَةُ ؟

(أ) $1 \text{ مكعب} = 2 \text{ أسطوانات}$
(ب) $1 \text{ مكعب} = 1 \text{ أسطوانة}$
(ج) $2 \text{ مكعبات} = 1 \text{ أسطوانة}$
(د) $1 \text{ مكعب} = 3 \text{ أسطوانات}$



22. شاهَدَت سَمْرٌ مِّنْ نَافِذَةٍ عُرِفَتْهَا المِطْلَةُ عَلَى سَاحَةِ بَيْتِهَا سُدَّسَ عَدَدِ الدَّجَاجَاتِ الَّتِي عِنْدَهُمْ. كَمَّ عَدَدُ الدَّجَاجَاتِ الَّتِي عِنْدَهُمْ ؟

(أ) 36 (ب) 42 (ج) 44 (د) 48



23. لَدَى بَرَاءَةَ عُلْبَةٌ فِيهَا 60 تَمْرَةً. تَأْكُلُ بَرَاءَةُ يَوْمِيًّا 5 تَمْرَاتٍ. أَكَلَتِ التَّمْرَةَ رَقْمَ 35 يَوْمَ الخَمِيسِ. فِي أَيِّ يَوْمٍ بَدَأَتْ بَرَاءَةُ بِأَكْلِ التَّمْرِ ؟

(أ) الأَحَدُ (ب) الإِثْنَيْنِ (ج) الأَرْبَعَاءِ (د) الجُمُعَةَ

24. لَدَى مَيْسَاءَ 10 أَخْتَامٍ. كُلُّ خَتَمٍ خَاصٌّ بِرَقْمٍ وَاحِدٍ فَقَطْ مِنَ الأَرْقَامِ:
0، 1، 2، 3، 4، 5، 6، 7، 8، 9. كَمْ خَتَمًا اسْتَعْمَلَتْ مَيْسَاءُ عِنْدَمَا سَجَلَتْ

؟ **0** **1** **0** **5** **2** **0** **2** **6**

8 (د)

5 (ج)

4 (ب)

3 (أ)



25. زَيْنَةُ أَصْغَرُ مِنْ أُخْتِهَا مَنَى بِسِنَّتَيْنِ، وَأَكْبَرُ
مِنْ أُخِيهَا عَلاَءٌ بِـ 5 سَنَوَاتٍ. كَمْ مَجْمُوعُ
أَعْمَارِ الإِخْوَةِ الثَّلَاثَةِ مَعًا إِذَا عَلِمْتُمْ أَنَّ
عُمَرَ مَنَى 9 سَنَوَاتٍ ؟

21 (د)

20 (ج)

19 (ب)

18 (أ)

26. أَمَامَكُمْ جَدُولُ مَصْرُوفَاتِ كَرَوَانَ أَثْنَاءَ رِحْلَتِهَا إِلَى مَدِينَةِ العَقَبَةِ. أَخَذَتْ مَعَهَا
700 دِينَارٍ. كَمْ دِينَارًا بَقِيَ مَعَهَا ؟

مَطَاعِمٍ	مَعَالِمِ أَثْرِيَّةٍ	وَادِي رَمٍ	العُوصِ	مُشْتَرِيَّاتٍ	تَرْفِيهِ	صَرَفَتْ عَلَى
135	67	120	65	176	54	المَبْلَغُ (دِينَار)

86 (د)

85 (ج)

84 (ب)

83 (أ)

27. أَمَامَكُمْ تَمَرِينُ طَرَحٍ لِعَدَدَيْنِ مِنْ رَقْمَيْنِ. كَمَ مَجْمُوعُ الرَّقْمَيْنِ m وَ n لِتَحْصُلُوا عَلَى قَضِيَّةٍ صَوَابٍ؟


$$\boxed{m} \boxed{4} - \boxed{3} \boxed{n} = \boxed{3} \boxed{8}$$

7 (أ) 10 (ب) 12 (ج) 13 (د)

28. ثَمَنُ كَعَكَةٍ كَامِلَةٍ 120 ش. أَيُّ جُزْءٍ مِنَ الْكَعَكَةِ ثَمَنُهُ 30 ش؟

$\frac{1}{2}$ (أ) $\frac{1}{3}$ (ب) $\frac{1}{4}$ (ج) $\frac{1}{6}$ (د)

29. أَعَدَّتِ الْمُعَلِّمَةُ هَيْفَاءُ لُعْبَةَ تَرْكِيْبِ قِطْعٍ لِتَكْوِينِ السَّمَكَةِ الَّتِي تَظْهَرُ أَمَامَكُمْ. كَمَ عَدَدُ الْقِطْعِ الَّتِي لَهَا أَرْبَعَةُ أَضْلَاعٍ؟



5 (أ) 6 (ب) 7 (ج) 8 (د)



30. تُلْزِمُ البَلَدِيَّةُ كُلَّ مَعَهَدٍ تَخْصِيصَ
6 مُرْشِدِينَ لِكُلِّ 90 طَالِبًا. يُخَطِّطُ
مَعَهَدُ السَّلَامِ رِحْلَةً يُشَارِكُ فِيهَا
360 طَالِبًا. كَمْ مُرْشِدًا يَجِبُ أَنْ
يُرَافِقَهُمْ فِي الرِّحْلَةِ ؟

28 (د)

26 (ج)

24 (ب)

22 (أ)

4

حَفْعِيَّةُ إِدْعَاءِ لِتَطْوِيرِ التَّقَاةِ وَالتَّعْلِيمِ
مُسَابَقَةُ الرِّيَاضِيَّاتِ الْقُطْرِيَّةِ الْخَامِسَةُ وَالْعِشْرُونَ

لِلصَّفِّ الرَّابِعِ 2025 - 2026



4

حَفْعِيَّةُ إِدَاعٍ لِتَطْوِيرِ الثَّقَافَةِ وَالتَّعْلِيمِ
مُسَابَقَةُ الرِّيَاضِيَّاتِ القُطْرِيَّةِ الخَامِسَةُ والعِشْرُونَ

لِلصَّفِّ الرَّابِعِ 2025 - 2026





رَقْمُ السُّؤَالِ	ضَعْ دَائِرَةً حَوْلَ الْحَرْفِ الَّذِي يُمَثِّلُ الْإِجَابَةَ الصَّحِيحَةَ	أ	ب	ج	د
1		أ	ب	ج	د
2		أ	ب	ج	د
3		أ	ب	ج	د
4		أ	ب	ج	د
5		أ	ب	ج	د
6		أ	ب	ج	د
7		أ	ب	ج	د
8		أ	ب	ج	د
9		أ	ب	ج	د
10		أ	ب	ج	د
11		أ	ب	ج	د
12		أ	ب	ج	د
13		أ	ب	ج	د
14		أ	ب	ج	د
15		أ	ب	ج	د
16		أ	ب	ج	د
17		أ	ب	ج	د
18		أ	ب	ج	د
19		أ	ب	ج	د
20		أ	ب	ج	د
21		أ	ب	ج	د
22		أ	ب	ج	د
23		أ	ب	ج	د
24		أ	ب	ج	د
25		أ	ب	ج	د
26		أ	ب	ج	د
27		أ	ب	ج	د
28		أ	ب	ج	د
29		أ	ب	ج	د
30		أ	ب	ج	د

كود: اسْمُ الطَّالِبِ: المَدْرَسَةُ:

إِجَابَاتُ مُسَابَقَةِ الرِّيَاضِيَّاتِ القَطْرِيَّةِ الخَامِسَةِ وَالعِشْرِينَ لِلصَّفِّ الرَّابِعِ

رَقْمُ السُّؤَالِ	ضَعُ دَائِرَةً حَوْلَ الحَرْفِ الَّذِي يُمَثِّلُ الإِجَابَةَ الصَّحِيحَةَ		
1	أ	ب	ج
2	أ	ب	ج
3	أ	ب	ج
4	أ	ب	ج
5	أ	ب	ج
6	أ	ب	ج
7	أ	ب	ج
8	أ	ب	ج
9	أ	ب	ج
10	أ	ب	ج
11	أ	ب	ج
12	أ	ب	ج
13	أ	ب	ج
14	أ	ب	ج
15	أ	ب	ج
16	أ	ب	ج
17	أ	ب	ج
18	أ	ب	ج
19	أ	ب	ج
20	أ	ب	ج
21	أ	ب	ج
22	أ	ب	ج
23	أ	ب	ج
24	أ	ب	ج
25	أ	ب	ج
26	أ	ب	ج
27	أ	ب	ج
28	أ	ب	ج
29	أ	ب	ج
30	أ	ب	ج