

كود العلامَةُ

اسْمُ الطَّالِبِ: كود:

المَدْرَسَةُ: رَقْمُ الهَاتِفِ:

البَلَدُ: رَقْمُ الجَوَّالِ:

اسْمُ المُرَاقِبِ: رَقْمُ العُرْفَةِ:

مُدَّةُ الاختِبَارِ سَاعَةٌ وَنِصْفٌ
مَبْنَى الاختِبَارِ وَتَقْسِيمُ الدَّرَجَاتِ

100 دَرَجَةٌ	مُسَابَقَةُ احْسَبْهَا صَح
100 دَرَجَةٌ	الاختِبَارُ المَحْوَسَبُ
300 دَرَجَةٌ	الاختِبَارُ التَّحْرِيرِيُّ
500 دَرَجَةٌ	المَجْمُوعُ

تَعْلِيمَاتٌ عَامَّةٌ

- * رَكَزُوا إِجاباتِكُمْ عَنِ الأَسْئَلَةِ المْتَعَدَّةِ الخِيارَاتِ فِي صَفْحَةِ الإِجاباتِ المُرْفَقَةِ فِي آخِرِ الاختِبَارِ.
- * تَذَكَّرُوا! لا تَخَافُوا إِذا لَمْ تَعْرِفُوا إِجاباتِ بَعْضِ الأَسْئَلَةِ، فَأَجِيبُوا عَنِّ جَمِيعِ الأَسْئَلَةِ حَتَّى لَوْ لَمْ تَكُونُوا مُتَأَكِّدِينَ مِنْ صِحَّتِها، خَمَّنُوا الجَوَّابَ وَلا تَتْرَكُوا سُؤالا بَلا جَوَّابِ.
- * سَجَّلُوا تَفاصِيلَكُم عَلى هَذِهِ الصَّفْحَةِ وَعَلى رَأْسِ صَفْحَةِ الإِجاباتِ الَّتِي فِي آخِرِ الاختِبَارِ.
- * مَمْنُوعٌ اسْتِعْمالُ الحاسِبَةِ.

نَرْجُو لَكُم النِّجَاحَ

جَمِيعُ الحُقُوقِ مَحْفُوظَةٌ لِجَمْعِيَّةِ إِبداعِ

1.05.2026

صَفْحَةٌ فَارِغَةٌ
انْتَقِلِ لِلصَّفْحَةِ التَّالِيَةِ

يَحْوِي الْاِخْتِبَارُ 30 سُؤْلاً مُتَعَدِّدَ الْخِيَارَاتِ مِنْ 1 - 30، (300 دَرَجَةِ). اخْتَرِ الْإِجَابَةَ الصَّحِيحَةَ، ثُمَّ أَحِطْ بِدَائِرَةِ الْحَرْفِ الَّذِي يُمَثِّلُ الْإِجَابَةَ الصَّحِيحَةَ لِكُلِّ سُؤَالٍ فِي الصَّفْحَةِ الْأَخِيرَةِ. (لِكُلِّ سُؤَالٍ 10 دَرَجَاتٍ).

1. احسبوا $63 : (80 - 73) =$ ؟

6 (أ) 7 (ب) 8 (ج) 9 (د)

2. أكملوا $600 - 265 = 335 + \underline{\hspace{2cm}}$ ؟

0 (أ) 5 (ب) 15 (ج) 25 (د)

3. احسبوا $2,026 - 999 =$ ؟

1,026 (أ) 1,027 (ب) 1,028 (ج) 1,029 (د)

4. إِذَا عَلِمْتُمْ أَنَّ بَعْدَ غَدِ الْجُمُعَةِ، فَأَيُّ يَوْمٍ كَانَ أَمْسُ ؟

أ) الأحد (ب) الإثنين (ج) الثلاثاء (د) الأربعاء

5. ما العدد الذي إذا ضربناه بـ 9 نحصل على 450 ؟

25 (أ) 30 (ب) 45 (ج) 50 (د)

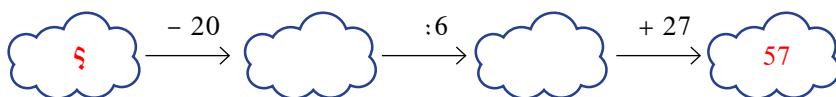
6. دَفَعَتْ شَهْدُ 60 شِ مُقَابِلَ 28 قَلَمًا. كَمَّ شَاقِلًا عَلَيَّهَا أَنْ تَدْفَعَ مُقَابِلَ 7 أَقْلَامٍ

إِضَافِيَّةٌ ؟

أ) 15 ش ب) 16 ش ج) 18 ش د) 20 ش





7. اخْتَارَتْ أَرِيحُ عَدَدًا وَسَجَّلَتْهُ بَدَلًا ؟. ثُمَّ نَفَّذَتْ عَمَلِيَّاتٍ حِسَابِيَّةً بِشَكْلِ صَحِيحٍ

حَسَبَ تَرْتِيبِ المُتَوَالِيَةِ. مَا العَدَدُ الَّذِي اخْتَارَتْهُ أَرِيحُ فِي البِدَايَةِ ؟



أ) 190 ب) 200 ج) 206 د) 210

8. أَيُّ زَهْرَةٍ مَجْمُوعُ الأَعْدَادِ الَّتِي تَظْهَرُ عَلَى أَوْرَاقِهَا هُوَ الأَصْغَرُ ؟



9. ما قيمة y التي تُحَقِّقُ المُعَادَلَةَ ؟ $456 + y = 728$

أ) 254 ب) 252 ج) 262 د) 272

لِلصَّفِّ الثَّالِثِ 2025 - 2026

10. كَمْ يُسَاوِي خُمْسُ الـ 750 ؟

أ) 50 ب) 75 ج) 150 د) 3,750

11. لَدَى أَدِيبٍ 27 وَرْدَةً. وَلَدَى سَلِيمٍ 45 وَرْدَةً. كَمْ وَرْدَةً يُعْطِي سَلِيمٌ لِأَدِيبٍ، لِيُصْبِحَ مَعَ كُلِّ وَاحِدٍ مِنْهُمَا نَفْسُ عَدَدِ الْوَرْدَاتِ ؟

أ) 9 ب) 10 ج) 11 د) 12



12. شَاهَدَتْ سَلْمَى مِنْ نَافِذَةٍ عُرْفَتِهَا الْمُطَلَّةَ عَلَى سَاحَةِ بَيْتِهَا رُبْعَ عَدَدِ القِطَطِ الَّتِي عِنْدَهُمْ. كَمْ عَدَدُ القِطَطِ الَّتِي عِنْدَهُمْ ؟

أ) 32 ب) 36 ج) 38 د) 40


+	9	15	26
7	16	22	33
k	m	n	45

13. أَمَامَكُمْ جَدُولٌ جَمَعَ. اكْتَشِفُوا قِيَمَةَ n ؟

أ) 31 ب) 32 ج) 33 د) 34

14. احْسُبُوا $2023 + 2024 + 2025 + 2026 + 2027 =$ ؟

أ) 10,125 ب) 10,130 ج) 10,135 د) 10,140



15. أَعَدَّتِ المَعَلِّمَةُ بيسانُ لَعِبَةَ تَرْكيبِ قِطْعٍ لِتَكْوِينِ الوَرْدَةِ الَّتِي تَظْهَرُ أَمَامَكُم. كَمَ عَدَدُ القِطْعِ الَّتِي لَهَا خَمْسَةُ أَضْلاعٍ؟


1 (أ) 2 (ب)

3 (ج) 4 (د)

16. يَقْطَعُ أَحْمَدُ رَكْضًا مَسَافَةَ 12 كيلومترًا فِي سَاعَةٍ وَثُلْثٍ. كَمَ كيلومترًا يَقْطَعُ خِلالَ سَاعَتَيْنِ؟

15 كم (أ) 16 كم (ب) 18 كم (ج) 20 كم (د)

17. كَمَ عَدَدُ البُقَعِ الَّتِي تَظْهَرُ عَلَى الخُنْفَسَاءِ الرَّابِعَةِ، إِذَا عَلِمْتُمْ أَنَّ مَجْمُوعَ البُقَعِ عَلَى كُلِّ الخُنْفَاسِ 36؟



11 (أ) 12 (ب) 13 (ج) 14 (د)

18. أَيُّ وَحْدَةٍ قِيَاسٍ مُنَاسِبَةٍ لِقِيَاسِ الْمَسَافَةِ مِنْ مَكَّةَ الْمُكْرَمَةِ إِلَى الْمَدِينَةِ الْمُنَوَّرَةِ؟


(أ) سَنْتِمِترٌ (ب) مِترٌ (ج) طَنٌ (د) كِيلُومِترٌ

19. يَوجَدُ فِي مَحَلِّ الخُضَارِ 37 صُنْدُوقَ تَفَّاحٍ، 7 مِنْهَا فَارِغَةٌ. وَدَاخِلَ كُلِّ صُنْدُوقٍ يَوجَدُ 5 كِغَمِ تَفَّاحٍ. مَا مَجْمُوعُ أَوْزَانِ التَّفَّاحِ فِي هَذِهِ الصَّنَادِيقِ؟

(أ) 150 كِغَمٍ (ب) 165 كِغَمٍ

(ج) 175 كِغَمٍ (د) 185 كِغَمٍ

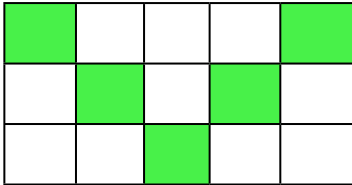
20. مُحِيطٌ مُسْتَطِيلٌ 80 سَم. طُولُ أَحَدِ أَضْلَاعِهِ 16 سَم. كَمْ طُولُ الضِّلَعِ الأَخرِ؟



(أ) 5 سَم (ب) 14 سَم

(ج) 24 سَم (د) 32 سَم

21. أَيُّ جُزْءٍ مِنَ الشَّكْلِ مُظَلَّلٌ؟








(أ) $\frac{1}{3}$ (ب) $\frac{1}{4}$

(ج) $\frac{1}{5}$ (د) $\frac{1}{6}$

22. دَفَعَ حُسَامٌ 60 شُ مُقَابِلَ 20 تَفَاحَةً. كَمْ شَاقِلًا عَلَيْهِ أَنْ يَدْفَعَ مُقَابِلَ 5 تَفَاحَاتٍ
إِضَافِيَّةٍ؟

(أ) 12 ش (ب) 14 ش (ج) 15 ش (د) 16 ش

23. اسْتَعْمَلَتْ مَلَائِكَةُ الرُّمُوزِ التَّالِيَةَ وَأَرْسَلَتْ إِلَى عَائِلَتِهَا     . مَاذَا أَرْسَلَتْ مَلَائِكَةُ؟

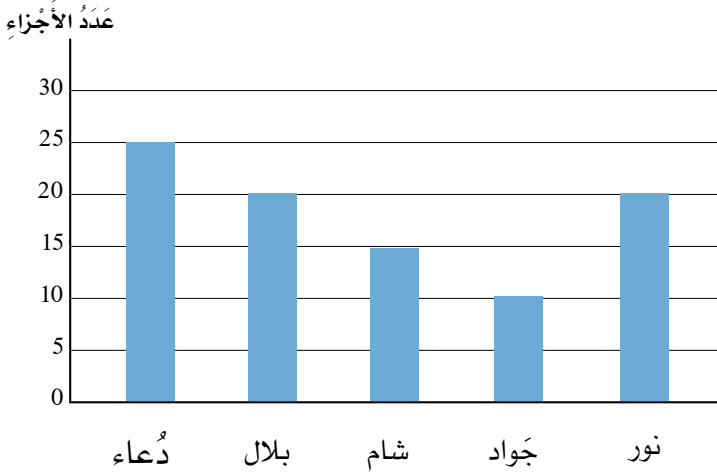
الرَّمْزُ	★	✱	✿	♥	✱	◇	♣	👑	⊗	⊗	◁	○	👑	☹
الْحَرْفُ	م	هـ	أ	ر	ل	ق	ش	ن	ف	ي	ت	ح	ك	د

(أ) أَهَنْتُكُمْ (ب) أَفْتَقِدُكُمْ (ج) أَحِنُّ لَكُمْ (د) أَشْكُرُكُمْ

24. كَمْ يُسَاوِي $\frac{1}{6}$ الـ 834؟

(أ) 138 (ب) 139 (ج) 140 (د) 141

25. تَعْرِضُ الأَعْمَدَةُ الَّتِي أَمَامَكُمْ عَدَدَ أَجْزَاءِ القُرْآنِ الَّتِي حَفِظَهَا كُلُّ وَاحِدٍ مِنْ أبْنَاءِ عَائِلَةِ أَبِي النُّورِ خِلالَ عامٍ كَامِلٍ. بَكَمَّ يَزِيدُ عَدَدُ الأَجْزَاءِ الَّتِي حَفِظَتْهَا دُعَاءُ عَنْ عَدَدِ الأَجْزَاءِ الَّتِي حَفِظَهَا جَوَادٌ؟



20 (د)

15 (ج)

10 (ب)

5 (أ)

26. أَكْمَلُوا العَدَدَ الناقِصَ لِتَحْصُلُوا عَلَى قِصِيَّةِ صَوَابٍ $457 + \underline{\quad} + 189 = 900$ ؟

274 (د)

264 (ج)

254 (ب)

244 (أ)

$$1,000 - (123 + 11 \times 7) =$$

27. احْصِبُوا

800 (د)

600 (ج)

162 (ب)

62 (أ)



28. وَقَفَتْ عَائِلَةٌ أَبِي أَمَجَدٍ وَعَدَدُهُمْ 13 شَخْصًا
فِي صَفٍّ يَنْتَظِرُونَ دَوْرَهُمْ لِاتِّمَامِ مُعَامَلَاتِ
الْفَحْصِ فِي الْمَطَارِ. وَقَفَ يُوْسُفُ فِي الْمَكَانِ
السَّادِسِ مِنَ الْأَمَامِ. وَوَقَفَتْ ثَنَاءٌ فِي الْمَكَانِ
الثَّلَاثِ مِنَ الْخَلْفِ. كَمْ عَدَدُ الْأَشْخَاصِ
الَّذِينَ يَقِفُونَ بَيْنَ يُوْسُفَ وَثَنَاءَ ؟

(د) 7

(ج) 6

(ب) 5

(أ) 4

29. مَا الْعَدَدُ الَّذِي سُبْعُهُ يُسَاوِي 140 ؟



(د) 980

(ج) 840

(ب) 740

(أ) 20

30. يَظْهَرُ أَمَامَكُمْ عَنِ الْيَمِينِ وَالْيَسَارِ مُرْبَعَانِ 3×3 فِيهِمَا مُرْبَعَاتٌ سَوْدَاءٌ لَا يُمَكِّنُ
الرُّؤْيَةَ عَبْرَهُمَا. يَتَمُّ وَضَعُهُمَا عَلَى لَوْحَةِ الصُّورِ الَّتِي فِي الْوَسْطِ. مَا الصُّورَةُ
الْوَحِيدَةُ الَّتِي يُمَكِّنُ مُشَاهَدَتَهَا ؟



3

حَفْعِيَّةُ إِدْعَاءِ لِتَطْوِيرِ التَّقَاةِ وَالتَّعْلِيمِ
مُسَابَقَةُ الرِّيَاضِيَّاتِ الْقُطْرِيَّةِ الْخَامِسَةُ وَالْعِشْرُونَ

لِلصَّفِّ الثَّالِثِ 2025 - 2026



3

حَفَيعَةُ إِدَاعٍ لِتَطْوِيرِ التَّقَاةِ وَالتَّعْلِيمِ
مُسَابَقَةُ الرِّيَاضِيَّاتِ الْقُطْرِيَّةِ الْخَامِسَةُ وَالْعِشْرُونَ

لِلصَّفِّ الثَّالِثِ 2025 - 2026



إِجَابَاتُ مُسَابَقَةِ الرِّيَاضِيَّاتِ القَطْرِيَّةِ الخَامِسَةِ وَالْعِشْرِينَ لِلصَّفِّ الثَّالِثِ

رَقْمُ السُّؤَالِ	ضَعْ دَائِرَةً حَوْلَ الحَرْفِ الَّذِي يُمَثِّلُ الإِجَابَةَ الصَّحِيحَةَ		
1	أ	ب	ج <input checked="" type="radio"/>
2	<input checked="" type="radio"/> أ	ب	ج
3	أ	<input checked="" type="radio"/> ب	ج
4	أ	ب	<input checked="" type="radio"/> ج
5	أ	ب	ج <input checked="" type="radio"/>
6	<input checked="" type="radio"/> أ	ب	ج
7	أ	<input checked="" type="radio"/> ب	ج
8	أ	ب	<input checked="" type="radio"/> ج
9	أ	ب	ج <input checked="" type="radio"/>
10	أ	ب	<input checked="" type="radio"/> ج
11	<input checked="" type="radio"/> أ	ب	ج
12	أ	<input checked="" type="radio"/> ب	ج
13	أ	ب	ج <input checked="" type="radio"/>
14	<input checked="" type="radio"/> أ	ب	ج
15	أ	<input checked="" type="radio"/> ب	ج
16	أ	ب	<input checked="" type="radio"/> ج
17	أ	<input checked="" type="radio"/> ب	ج
18	أ	ب	ج <input checked="" type="radio"/>
19	<input checked="" type="radio"/> أ	ب	ج
20	أ	ب	<input checked="" type="radio"/> ج
21	<input checked="" type="radio"/> أ	ب	ج
22	أ	ب	<input checked="" type="radio"/> ج
23	أ	ب	ج <input checked="" type="radio"/>
24	أ	<input checked="" type="radio"/> ب	ج
25	أ	ب	<input checked="" type="radio"/> ج
26	أ	<input checked="" type="radio"/> ب	ج
27	أ	ب	ج <input checked="" type="radio"/>
28	<input checked="" type="radio"/> أ	ب	ج
29	أ	ب	ج <input checked="" type="radio"/>
30	أ	ب	<input checked="" type="radio"/> ج

كود: اسْمُ الطَّالِبِ: المَدْرَسَةُ:
إِجَابَاتُ مُسَابَقَةِ الرِّيَاضِيَّاتِ القُطْرِيَّةِ الخَامِسَةِ وَالْعِشْرِينَ لِلصَّفِّ الثَّالِثِ

رَقْمُ السُّؤَالِ	ضَعْ دَائِرَةً حَوْلَ الحَرْفِ الَّذِي يُمَثِّلُ الإِجَابَةَ الصَّحِيحَةَ		
1	أ	ب	ج
2	أ	ب	ج
3	أ	ب	ج
4	أ	ب	ج
5	أ	ب	ج
6	أ	ب	ج
7	أ	ب	ج
8	أ	ب	ج
9	أ	ب	ج
10	أ	ب	ج
11	أ	ب	ج
12	أ	ب	ج
13	أ	ب	ج
14	أ	ب	ج
15	أ	ب	ج
16	أ	ب	ج
17	أ	ب	ج
18	أ	ب	ج
19	أ	ب	ج
20	أ	ب	ج
21	أ	ب	ج
22	أ	ب	ج
23	أ	ب	ج
24	أ	ب	ج
25	أ	ب	ج
26	أ	ب	ج
27	أ	ب	ج
28	أ	ب	ج
29	أ	ب	ج
30	أ	ب	ج