

كود العلامَةُ
اسْمُ الطَّالِبِ: كود:
المَدْرَسَةُ: رَقْمُ الهَاتِفِ:
البَلَدُ: رَقْمُ الجَوَّالِ:
اسْمُ المُرَاقِبِ: رَقْمُ العُرْفَةِ:

مُدَّةُ الاختِبَارِ سَاعَةٌ وَنِصْفٌ
مَبْنَى الاختِبَارِ وَتَقْسِيمُ الدَّرَجَاتِ

100 دَرَجَةٌ	مُسَابَقَةُ احْسَبْهَا صَح
100 دَرَجَةٌ	الاختِبَارُ المَحْوَسَبُ
300 دَرَجَةٌ	الاختِبَارُ التَّحْرِيرِيُّ
500 دَرَجَةٌ	المَجْمُوعُ

تَعْلِيمَاتٌ عَامَّةٌ

- * رَكِّزُوا إِجَابَاتِكُمْ عَنِ الأَسْئَلَةِ المُتَعَدِّدَةِ الخِيَارَاتِ فِي صَفْحَةِ الإِجَابَاتِ المُرَفَّعَةِ فِي آخِرِ الاختِبَارِ.
- * تَذَكَّرُوا! لَا تَخَافُوا إِذَا لَمْ تَعْرِفُوا إِجَابَاتِ بَعْضِ الأَسْئَلَةِ، فَأَجِيبُوا عَن جَمِيعِ الأَسْئَلَةِ حَتَّى لَوْ لَمْ تَكُونُوا مُتَأكِّدِينَ مِن صِحَّتِهَا، خَمَّنُوا الجَوَابَ وَلَا تَتْرَكُوا سُؤَالَ بِلَا جَوَابٍ.
- * سَجَّلُوا تَفَاصِيلَكُمْ عَلَى هَذِهِ الصَّفْحَةِ وَعَلَى رَأْسِ صَفْحَةِ الإِجَابَاتِ الَّتِي فِي آخِرِ الاختِبَارِ.
- * مَمْنُوعٌ اسْتِعْمَالُ الحَاسِبَةِ.

نَرْجُو لَكُمْ النِّجَاحَ

جَمِيعُ الحُقُوقِ مَحْفُوظَةٌ لِجَمْعِيَّةِ إِبداعِ

1.05.2026

صَفْحَةٌ فَارِغَةٌ
انْتَقِلِ لِلصَّفْحَةِ التَّالِيَةِ

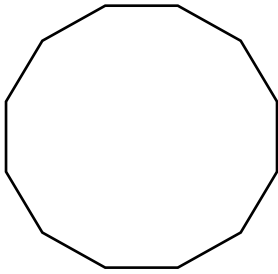
يَحْوِي الاختِبَارُ 30 سُؤْلاً مُتَعَدِّدَ الخِيَارَاتِ مِنْ 1 - 30، (300 دَرَجَةِ). اخْتَرِ الإِجَابَةَ الصَّحِيحَةَ، ثُمَّ أَحِطْ بِدَائِرَةِ الحَرْفِ الَّذِي يُمَثِّلُ الإِجَابَةَ الصَّحِيحَةَ لِكُلِّ سُؤَالٍ فِي الصَّفْحَةِ الأَخِيرَةِ. (لِكُلِّ سُؤَالٍ 10 دَرَجَاتٍ).

1. احسبوا $758 - 59 =$ ؟

(أ) 698 (ب) 699 (ج) 700 (د) 701

2. لَدَى لَيْلَى 470 ش. دَفَعَتْ ثَمَنَ العَصَائِرِ الَّتِي اشْتَرَتْهَا 170 ش. وَقَسَّمتِ البَاقِي عَلَى إِخْوَتِهَا الثَّلَاثَةِ بِالتَّسَاوِي. عَلَى كَمْ حَصَلَ كُلُّ وَاحِدٍ مِنْهُم ؟

(أ) 50 ش (ب) 70 ش (ج) 90 ش (د) 100 ش



3. كَمْ عَدَدُ رُؤُوسِ الشَّكْلِ الظَّاهِرِ أَمَامَكُمْ ؟

(أ) 10 (ب) 11

(ج) 12 (د) 13

4. يَوْجَدُ فِي مَكْتَبَةِ رِشَا خَمْسُ مِئَةٍ وَسَبْعٍ وَأَرْبَعُونَ كِتَابًا. كَيْفَ تَكْتُبُونَ هَذَا العَدَدَ ؟


(أ) 547 (ب) 574 (ج) 575 (د) 754

5. اخْتَارُوا الإِشَارَةَ المُنَاسِبَةَ لِتَحْصُلُوا عَلَى قَضِيَّةِ صَوَابٍ $80 = 20 \text{ } _ \text{ } 100$ ؟

(أ) ÷ (ب) × (ج) + (د) -

6. كَمَ عَدَدُ البُقَعِ الَّتِي تَظْهَرُ عَلَى الْخَنْفَسَاءِ الرَّابِعَةِ، إِذَا عَلِمْتُمْ أَنَّ مَجْمُوعَ البُقَعِ عَلَى كُلِّ الْخَنْفَاسِ 34 ؟

1 2 3 4 5 6



13 (د)

12 (ج)

11 (ب)

10 (أ)

7. يَظْهَرُ فِي الْجَدْوَلِ أَعْدَادٌ. اِكتَشِفُوا الْقَانُونِيَّةَ الَّتِي بَيْنَهَا، ثُمَّ جَدُوا قِيَمَةَ m ؟

50	85
95	130
120	155
165	200
m	260

225 (ب)

220 (أ)

235 (د)

230 (ج)

8. مَا الْعَدَدُ الَّذِي أَصْغَرُ مِنْ 208 بِـ 67 ؟

144 (د)

141 (ج)

124 (ب)

114 (أ)

9. أَيُّ عَدَدٍ مِنَ الْأَعْدَادِ الْآتِيَةِ هُوَ فَرْدِيٌّ ؟

558 (د)

374 (ج)

267 (ب)

112 (أ)

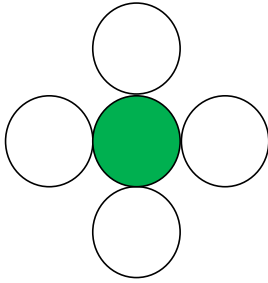
لِلصَّفِّ الثَّانِي 2025 - 2026

10. أَيُّ عَدَدٍ يَقَعُ بِالضَّبَطِ فِي الوَسَطِ بَيْنَ العَدَدَيْنِ 19 وَ 89 ؟

أ) 51 ب) 52 ج) 53 د) 54

11. احْسَبُوا = (700 - 500) - 340 ؟

أ) 140 ب) 240 ج) 340 د) 440




12. أَيُّ جُزْءٍ مِنَ الشَّكْلِ مُظَلَّلٌ ؟

أ) ثَلَاثٌ ب) رُبْعٌ
ج) خُمْسٌ د) سُدْسٌ

13. يَظْهَرُ دَاخِلَ المِسْتَطِيلِ مَجْمُوعَةٌ أَشْكَالٍ. اكْتَشِفُوا قِيَمَةَ ؟ الَّتِي تَظْهَرُ فِي

الجدول ؟



	3		أَسْوَدٌ
5		؟	أَبْيَضٌ

أ) 3 ب) 4 ج) 5 د) 6

لِلصَّفِّ الثَّانِي 2025 - 2026

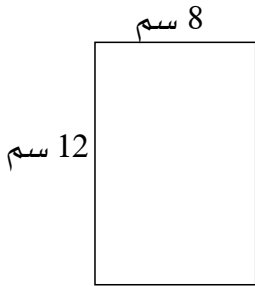
14. مَا اسْمُ الشَّهْرِ الخَامِسِ فِي السَّنَةِ ؟

(أ) آذَار (ب) نَيْسَانَ (ج) أَيَّارَ (د) حُزَيْرَانَ

15. لَدَى عَامِرٍ 9 أَوْرَاقٍ نَقْدِيَّةٍ مِنْ فِتَّةِ الخَمْسِينَ شَاقِلًا. فَكَمْ شَاقِلًا مَعَهُ ؟

(أ) 45 ش (ب) 450 ش (ج) 540 ش (د) 500 ش

16. كَمْ يُسَاوِي مُحِيطُ المِسْتَطِيلِ ؟



(أ) 40 سم (ب) 42 سم

(ج) 48 سم (د) 96 سم

17. تَضَعُ رَيْحَانَةٌ 50 وَرْدَةً فِي مَزْهَرِيَّةٍ وَاحِدَةٍ. كَمْ وَرْدَةً تَضَعُ فِي 6 مَزْهَرِيَّاتٍ ؟

(أ) 250 (ب) 300 (ج) 350 (د) 400

21. رَسَمَتْ حَنَانُ نَمَطًا لِذَوَائِرٍ صَغِيرَةٍ كَمَا يَظْهَرُ فِي الشَّكْلِ. كَمْ دَائِرَةً سَتَرَسُمُ حَنَانُ

فِي السَّطْرِ الخَامِسِ ؟

○ ○

○ ○ ○ ○

○ ○ ○ ○ ○ ○ ○ ○

32 (ب)

30 (أ)

36 (د)

34 (ج)



22. وَقَفَتْ عَائِلَةُ أَبِي أَمَجَدٍ وَعَدَدُهُمْ 13 شَخْصًا

فِي صَفٍّ يَنْتَظِرُونَ دَوْرَهُمْ لِاتِّمَامِ مُعَامَلَاتِ

الْفَحْصِ فِي المَطَارِ. وَقَفَ يُوْسُفُ فِي المَكَانِ

السَّادِسِ مِنَ الأَمَامِ. وَوَقَفَتْ ثَنَاءُ فِي المَكَانِ

الثَّلَاثِ مِنَ الخَلْفِ. كَمْ عَدَدُ الأَشْخَاصِ

الَّذِينَ يَقِفُونَ بَيْنَ يُوْسُفَ وَثَنَاءَ ؟

7 (د)


6 (ج)

5 (ب)


4 (أ)

23. أَيُّ زَهْرَةٍ مَجْمُوعُ الأَعْدَادِ الَّتِي تَظْهَرُ عَلَى أَوْرَاقِهَا يُسَاوِي العَدَدَ الَّذِي فِي


الدَّائِرَةِ ؟




د



ج



ب



أ

لِلصَّفِّ الثَّانِي 2025 - 2026

24. یَحْفَظُ حَمْدَانُ 7 آیَاتٍ خِلالَ 15 دَقِیقَةً. فَكَمْ آیَةً یَحْفَظُ فِي سَاعَتَیْنِ؟

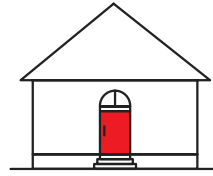
أ) 48 ب) 52 ج) 56 د) 60

25. اكْمَلُوا العَدَدَ النَّاقِصَ لِتَحْصُلُوا عَلٰی قَضِیَّةٍ صَوَابٍ

$$657 - \underline{\quad} = 249 + 138$$





أ) 170 ب) 250 ج) 270 د) 290

وَتَرَعَّبُ بِتَزْیِیْنِهِ بِاسْتِعْمَالِ كُلِّ هَذِهِ



26. رَسَمْتَ سَنَاءُ بَيْتًا

الأشكال: أَيُّ شَكْلِ یُمْكِنُهَا الحُصُولُ عَلَیْهِ؟



27. اتَّفَقَ أَرْبَعَةُ أَصْدِقَاءٍ عَلَى اعْتِمَادِ ثَلَاثَةِ أَرْقَامٍ مُخْتَلِفَةٍ لِفَتْحِ خَزَنَاتِهِمُ الَّتِي فِي عُرْفِ الفُنْدُقِ. وَلاءَمُوا لِكُلِّ رَقْمٍ حَرْفًا خَاصًّا. مَا الأَحْرَفُ الَّتِي تَظْهَرُ عَلَى الخَزَنَةِ الرَّابِعَةِ؟



BNB (د)

ABA (ج)

ANA (ب)

NBN (أ)

28. لَدَى نَجِيبٍ مَجْمُوعَةٌ مِنَ الدَّجَاجَاتِ وَقِطَّةٌ. دَخَلَتِ القِطَّةُ إِلَى المَزْرَعَةِ مَعَ بَعْضِ مِنَ الدَّجَاجَاتِ. عَدَّ نَجِيبٌ أَرْجُلَهَا فَوَجَدَهَا 20 رِجْلًا. كَمْ عَدَدُ الدَّجَاجَاتِ الَّتِي دَخَلَتِ إِلَى المَزْرَعَةِ؟

11 (د)

10 (ج)

9 (ب)

8 (أ)



29. أَمَامَكُمْ قَفَازَاتُ مُلَاكِمَةٍ يَظْهَرُ عَلَيْهَا أَرْقَامٌ. كَمْ عَدَدُ الأَزْوَاجِ الَّتِي يَظْهَرُ عَلَيْهَا الرَّقْمُ نَفْسُهُ؟

3 (ب)

2 (أ)

5 (د)

4 (ج)

30. إِذَا كَانَتِ السَّاعَةُ تُشِيرُ الْآنَ إِلَى الثَّالِثَةِ وَالنِّصْفِ بَعْدَ الظُّهْرِ. فَكَمْ كَانَتْ تُشِيرُ

السَّاعَةُ قَبْلَ خَمْسِ سَاعَاتٍ وَنِصْفٍ ؟



أ) 09 : 30 ب) 10 : 00

ج) 10 : 30 د) 11 : 00

2

حَفَيعَةٌ إِذْدَاعٍ لِتَطْوِيرِ التَّقَاةِ وَالتَّعْلِيمِ
مُسَابَقَةُ الرِّيَاضِيَّاتِ الْقُطْرِيَّةِ الْخَامِسَةُ وَالْعِشْرُونَ

لِلصَّفِّ الثَّانِي 2025 - 2026



2

حَفَيعَةٌ إِذْدَاعٍ لِتَطْوِيرِ التَّقَاةِ وَالتَّعْلِيمِ
مُسَابَقَةُ الرِّيَاضِيَّاتِ الْقُطْرِيَّةِ الْخَامِسَةُ وَالْعِشْرُونَ

لِلصَّفِّ الثَّانِي 2025 - 2026



إِجَابَاتُ مُسَابَقَةِ الرِّيَاضِيَّاتِ القَطْرِيَّةِ الخَامِسَةِ وَالْعِشْرِينَ لِلصَّفِّ الثَّانِي

رَقْمُ السُّؤَالِ	ضَعْ دَائِرَةً حَوْلَ الحَرْفِ الَّذِي يُمَثِّلُ الإِجَابَةَ الصَّحِيحَةَ			
1	أ	ب	ج	د
2	أ	ب	ج	د
3	أ	ب	ج	د
4	أ	ب	ج	د
5	أ	ب	ج	د
6	أ	ب	ج	د
7	أ	ب	ج	د
8	أ	ب	ج	د
9	أ	ب	ج	د
10	أ	ب	ج	د
11	أ	ب	ج	د
12	أ	ب	ج	د
13	أ	ب	ج	د
14	أ	ب	ج	د
15	أ	ب	ج	د
16	أ	ب	ج	د
17	أ	ب	ج	د
18	أ	ب	ج	د
19	أ	ب	ج	د
20	أ	ب	ج	د
21	أ	ب	ج	د
22	أ	ب	ج	د
23	أ	ب	ج	د
24	أ	ب	ج	د
25	أ	ب	ج	د
26	أ	ب	ج	د
27	أ	ب	ج	د
28	أ	ب	ج	د
29	أ	ب	ج	د
30	أ	ب	ج	د

كود:

اسم الطالب:

المدرسة:

إجابات مسابقة الرياضيات القطرية الخامسة والعشرين للصف الثاني

رقم السؤال	ضع دائرة حول الحرف الذي يمثل الإجابة الصحيحة		
1	أ	ب	ج
2	أ	ب	ج
3	أ	ب	ج
4	أ	ب	ج
5	أ	ب	ج
6	أ	ب	ج
7	أ	ب	ج
8	أ	ب	ج
9	أ	ب	ج
10	أ	ب	ج
11	أ	ب	ج
12	أ	ب	ج
13	أ	ب	ج
14	أ	ب	ج
15	أ	ب	ج
16	أ	ب	ج
17	أ	ب	ج
18	أ	ب	ج
19	أ	ب	ج
20	أ	ب	ج
21	أ	ب	ج
22	أ	ب	ج
23	أ	ب	ج
24	أ	ب	ج
25	أ	ب	ج
26	أ	ب	ج
27	أ	ب	ج
28	أ	ب	ج
29	أ	ب	ج
30	أ	ب	ج