

جَفْعِيَّةُ إِبداعٍ لِتَطْوِيرِ الثَّقَافَةِ وَالتَّعْلِيمِ
مُسَابَقَةُ الرِّيَاضِيَّاتِ القُطْرِيَّةِ الثَّالِثَةِ وَالعِشْرُونَ
لِلصَّفِّ الثَّانِي 2023 - 2024



كود العلامَةُ

اسمُ الطَّالِبِ: كود:

المَدْرَسَةُ: رَقْمُ الهَاتِفِ:

البَلَدُ: رَقْمُ الجَوَالِ:

اسمُ المُرَاقِبِ: رَقْمُ الغُرْفَةِ:

مُدَّةُ الاختِبَارِ سَاعَةٌ وَنِصْفٌ
مَبْنَى الاختِبَارِ وَتَقْسِيمِ الدَّرَجَاتِ

| | |
|--------------|----------------------------|
| 100 دَرَجَةٍ | مُسَابَقَةُ احْسَبْهَا صَح |
| 100 دَرَجَةٍ | الاختِبَارُ المَحْوسَبُ |
| 300 دَرَجَةٍ | الاختِبَارُ التَّحْريريُّ |
| 500 دَرَجَةٍ | المَجْموعُ |

تَعْلِيمَاتٌ عَامَّةٌ

- * رَكِّزُوا إِجَابَاتِكُمْ لِلأَسْئَلَةِ المْتَعَدَّةِ الخِيَارَاتِ فِي صَفْحَةِ الإِجَابَاتِ المُرَفَّقَةِ فِي آخِرِ الاختِبَارِ.
- * تَذَكَّرُوا ! لا تَخَافُوا إِذَا لَمْ تَعْرِفُوا إِجَابَاتِ بَعْضِ الأَسْئَلَةِ. فَاجِيبُوا عَن جَمِيعِ الأَسْئَلَةِ حَتَّى لَوْ لَمْ تَكُونُوا مُتَأكِّدِينَ مَن صَحَّتْهَا ، حَمَّنُوا الجَوَابَ وَلا تَتْرَكُوا سَؤَالَ بِلَا جَوَابِ.
- * سَجِّلُوا تَفَاصِيلَكُمْ عَلَى هَذِهِ الصَّفْحَةِ وَعَلَى رَأْسِ صَفْحَةِ الإِجَابَاتِ الَّتِي فِي آخِرِ الاختِبَارِ.
- * مَمْنوعٌ اسْتِعْمَالُ الحَاسِبَةِ.

نَرْجُو لَكُمْ النِّجَاحَ


جَمِيعُ الحُقُوقِ مَحْفُوظَةٌ لِجَمْعِيَّةِ إِبداعِ

3.05.2024



صَفْحَةٌ فَارِغَةٌ
انْتَقِلِ لِلصَّفْحَةِ التَّالِيَةِ

يَحْوِي الاختِبَارُ 30 سُؤْلاً مُتَعَدِّدَ الخِيَارَاتِ مِنْ 1 - 30، (300 دَرَجَةِ). اخْتَرِ الإِجَابَةَ الصَّحِيحَةَ، ثُمَّ أَحِطْ بِدَائِرَةِ الحَرْفِ الَّذِي يُمَثِّلُ الإِجَابَةَ الصَّحِيحَةَ لِكُلِّ سُؤَالٍ فِي الصَّفْحَةِ الأَخِيرَةِ. (لِكُلِّ سُؤَالٍ 10 دَرَجَاتٍ).



1. احسبوا $631 - 136 =$ ؟

(أ) 475

(ج) 495

(ب) 485

(د) 505



2. تَصِلُ هَنَاءُ إِلَى الجَامِعَةِ يَوْمِيَا السَّاعَةَ التَّاسِعَةَ صَبَاحًا. وَصَلَتْ اليَوْمَ مُبَكَّرَةً بِنِصْفِ سَاعَةٍ. فِي

أَيِّ سَاعَةٍ وَصَلَتْ هَنَاءُ إِلَى الجَامِعَةِ ؟

(أ) 08 : 00

(ب) 08 : 30

(ج) 09 : 00

(د) 09 : 30

3. مَا أَكْبَرُ عَدَدٍ مِنْ ثَلَاثَةِ أَرْقَامٍ مُخْتَلَفَةٍ، يُمَكِّنُ تَكْوِينَهُ مِنَ الأَرْقَامِ 5 ، 8 ، 7 ؟

(أ) 875

(ب) 857

(ج) 785

(د) 758

4. أَيُّ عَدَدٍ مِنَ الأَعْدَادِ الآتِيَةِ هُوَ زَوْجِيٌّ ؟

(أ) 285

(ب) 441

(ج) 683

(د) 774

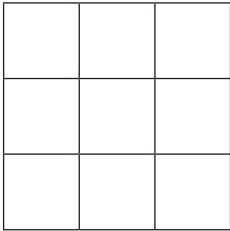


5. يَطْبَعُ بِهَاءٍ 25 كِتَابًا كُلُّ 20 دَقِيقَةً. فَكَمْ كِتَابًا
يَطْبَعُ فِي سَاعَتَيْنِ ؟

- (أ) 150
(ب) 160
(ج) 170
(د) 180

6. وَزَعَتْ رَحْمَةً 60 شِ بِالِتَّسَاوِي عَلَى 6 أَطْفَالٍ. كَمْ شَاقِلًا حَصَلَ كُلُّ طِفْلِ ؟

- (أ) 5 شِ
(ب) 10 شِ
(ج) 15 شِ
(د) 20 شِ



7. كَمْ عَدَدُ المُرَبَّعَاتِ الَّتِي تَظْهَرُ فِي الشَّكْلِ ؟

- (أ) 9
(ب) 10
(ج) 12
(د) 14

8. أَكْمِلُوا النِّاقِصَ لِتَحْصُلُوا عَلَى قَضِيَّةٍ صَوَابٍ $200 = 68 + \underline{\quad}$ ؟

- (أ) 112
(ب) 122
(ج) 132
(د) 142

9. إِمْلِئُوا كُلَّ الأَرْقَامِ 2 ، 3 ، 6 ، 8 فِي المُرَبَّعَاتِ $\square\square + \square\square$ بِحَيْثُ تَحْصُلُونَ
عَلَى أَكْبَرِ مَجْمُوعٍ. كَمْ هَذَا المَجْمُوعُ ؟

- (أ) 145
(ب) 146
(ج) 152
(د) 153

10. يَرَبِّحُ تَامِرٌ فِي كُلِّ يَوْمٍ، فِي الصَّبَاحِ 130 ش وَفِي الْمَسَاءِ 70 ش. كَمْ يَرَبِّحُ تَامِرٌ فِي خَمْسَةِ أَيَّامٍ ؟


(أ) 800 ش (ب) 870 ش (ج) 970 ش (د) 1,000 ش

| | | | |
|---|----|----|---|
| | 4 | | |
| 2 | 6 | 12 | |
| | 10 | 5 | ؟ |
| | | 3 | |

11. اكْتَشَفُوا الْقَانُونِيَّةَ ثُمَّ اكْمَلُوا الْعَدَدَ النَّاقِصَ ؟

(أ) 3 (ب) 4


(ج) 5 (د) 6



12. لَدَى رِيَاضٍ صُنْدُوقَانِ مِنَ التُّفَّاحِ. كَمْ تَفَاحَةً عَلَيْهِ أَنْ يَنْقُلَ مِنَ الصُّنْدُوقِ الَّذِي فِي الْأَعْلَى إِلَى الصُّنْدُوقِ الَّذِي فِي الْأَسْفَلِ لِيَكُونَ عَدَدُ التُّفَّاحِ فِي كِلَا الصُّنْدُوقَيْنِ مُتَسَاوِيًا ؟

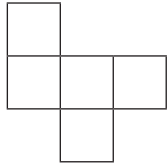
(أ) 1 (ب) 2

(ج) 3 (د) 4



13. كَمْ مَرَّةً يَظْهَرُ الْحَرْفُ (ل) فِي (إِذَا كَانَ الْجَمَالُ يَجْذِبُ الْعُيُونَ، فَالْأَخْلَاقُ تَمْلِكُ الْقُلُوبَ) ؟

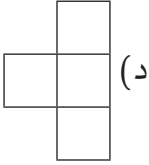
(أ) 2 (ب) 4 (ج) 6 (د) 8



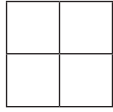
14. لَدَى رَسِيلَ بِطَاقَةٍ مَرَسُومٌ عَلَيَّهَا الشَّكْلُ الآتِي:

وَهِيَ تَرَعَّبُ بِحَذْفِ مُرَبَّعٍ وَاحِدٍ. أَيُّ شَكْلِ لَا

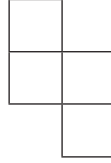
يُمْكِنُهَا الحُصُولُ عَلَيْهِ بَعْدَ حَذْفِ هَذَا المُرَبَّعِ ؟



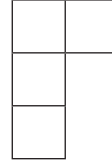
(د)



(ج)



(ب)



(أ)

15. احسبوا $200 - 127 =$ ؟

(د) 75

(ج) 74

(ب) 73

(أ) 71



16. تَسْتَهْلِكُ عَائِلَةٌ يَوْمِيًّا 7 أَرغِفَةً. كَمْ رَغِيفًا

تَسْتَهْلِكُ فِي ثَلَاثَةِ أَسَابِيعٍ ؟

(ب) 148

(أ) 147

(د) 150

(ج) 149

17. أَمَامَكُمْ مُعَادَلَةٌ غَيْرُ صَحِيحَةٍ $1 + 4 + 10 \times 3 = 45$.

أَيُّ مِنَ الأَعْدَادِ الظَّاهِرَةِ فِي المُعَادَلَةِ إِذَا أَضَفْنَا لَهُ 1 تُصَبِّحُ المُعَادَلَةَ صَحِيحَةً ؟


(د) 10

(ج) 4

(ب) 3

(أ) 1

18. أَيُّ مُسْتَطِيلٍ لَا تَظْهَرُ فِيهِ كُلُّ الصُّوَرِ ؟



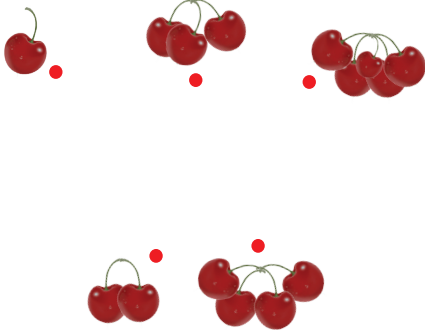
19. ما مَجْموعُ أَصْغَرِ عَدَدَيْنِ مِنَ الأَعْدَادِ الَّتِي تَظْهَرُ فِي الشَّكْلِ ؟

(أ) 800

(ب) 803

(د) 810

(ج) 809



20. تَرَعَّبُ لِيَانُ بِرِسْمِ خُطُوطٍ مُسْتَقِيمَةٍ تَصِلُ

النُّقَاطَ الَّتِي جَنَّبَهَا حَبَّاتُ كَرَزٍ. بَدَأَتْ مِنْ

النُّقْطَةِ الَّتِي جَنَّبَهَا حَبَّةٌ كَرَزٍ وَاحِدَةٍ، ثُمَّ

الَّتِي جَنَّبَهَا حَبَّتَانِ، ثُمَّ ثَلَاثُ حَبَّاتٍ،

وَهَكَذَا... ما الشَّكْلُ الَّذِي حَصَلَتْ

عَلَيْهِ لِيَانُ بَعْدَ أَنْ أَنْجَزَتْ مُهْمَتَهَا ؟



21. لَدَى سَنَاءَ 390 ش. اشْتَرَتْ هَدِيَّةً بِ 190 ش. وَقَسَمَتِ البَاقِي عَلَى إِحْوَتِهَا الأَرْبَعَةَ بِالتَّسَاوِي. كَمْ حَصَلَ كُلُّ وَاحِدٍ مِنْهُم ؟

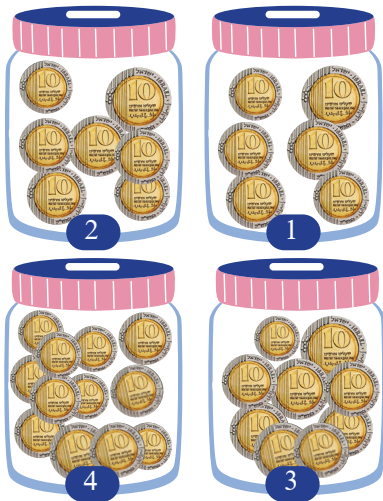
أ) 50 ش ب) 55 ش ج) 60 ش د) 65 ش

22. يُوْجَدُ دَاخِلَ القَاعَةِ 60 شَخْصًا (طُلَّابٌ وَطَالِبَاتٌ). عَدَدُ الطُّلَّابِ يُسَاوِي ثَلَاثَةَ أضعافِ عَدَدِ الطَّالِبَاتِ. كَمْ عَدَدُ الطُّلَّابِ ؟

أ) 35 ب) 40 ج) 45 د) 50

23. طُولُ حُطْوَةٍ عَادِلٍ 70 سم. قَاسَ عَادِلٌ طُولَ سَيَّارَةٍ وَالدَّهِّ بِحُطْوَاتِهِ، فَوَجَدَ أَنَّ طُولَهَا 6 حُطْوَاتٍ. كَمْ طُولَ السَّيَّارَةِ بِالسَّنْتِمِترَاتِ ؟

أ) 76 سم ب) 400 سم ج) 410 سم د) 420 سم



24. لَدَى شَدَى 4 عُلْبٍ فِي كُلِّ وَاحِدَةٍ مِنْهَا مَبْلَغٌ مِنَ المَالِ. تَرَعَّبُ شَدَى أَنَّ تَتَصَدَّقَ بِجُزْءٍ مِنَ المَبْلَغِ الَّذِي مَعَهَا. مَا رَقْمُ العُلبَةِ الَّتِي عَلَيَّهَا أَنَّ تَتَصَدَّقَ بِهَا كُلِّهَا كَيَّ يَبْقَى مَعَهَا 270 ش ؟

أ) 1 ب) 2
ج) 3 د) 4

25. أَيُّ الأَعْدادِ التَّالِيَةِ أَصْغَرُ مِنْ 794 ؟

(د) 877

(ج) 749

(ب) 947

(أ) 974



26. يَقْطَعُ الأَرْنَبُ مَسافَةَ 100 كم فِي سَاعَتَيْنِ. كَمْ ساعَةً يَحْتَاجُ

إِلَيْهَا لِيَقْطَعَ مَسافَةَ 250 كم ؟

(ب) 5

(أ) 4

(د) 7

(ج) 6



27. كَمْ مِترًا تَقْرِيبًا ارْتِفاعُ الزَّرَافَةِ ؟

(ب) 15 م

(أ) 5 م

(د) 25 م

(ج) 20 م

28. اكْتَشِفُوا القانُونِيَّةَ الَّتِي فِي الشَّكْلِ. ثُمَّ اخْتارُوا العَدَدَ

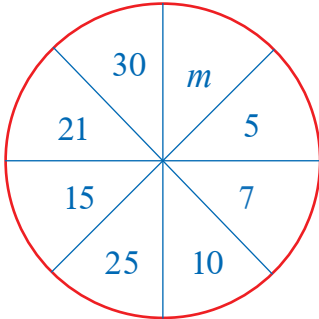
المُناسِبَ لـ m ؟

(ب) 65

(أ) 60

(د) 75


(ج) 70



29. اِخْتَارُوا الإِشَارَةَ المُنَاسِبَةَ لِتَحْصُلُوا عَلَى قَضِيَّةِ صَوَابٍ ؟

$$400 \text{ ___ } 40 = 360$$

(أ) + (ب) × (ج) - (د) ÷



30. رَسَمَ خَلِيلٌ نَمَطًا لِدَوَائِرَ صَغِيرَةٍ كَمَا
يَظْهَرُ فِي الشَّكْلِ. كَمْ دَائِرَةً يَرَسُمُ
خَلِيلٌ فِي السَّطْرِ السَّادِسِ ؟

(أ) 64 (ب) 66 (ج) 68 (د) 70

جَفْعِيَّةٌ إِبداعٌ لِتَطْوِيرِ الثَّقَافَةِ وَالتَّعْلِيمِ
مُسَابَقَةُ الرِّيَاضِيَّاتِ القُطْرِيَّةِ الثَّالِثَةِ وَالعِشْرُونَ
لِلصَّفِّ الثَّانِي 2023 - 2024



كود: اسْمُ الطَّالِبِ: المَدْرَسَةُ:

إِجَابَاتُ مُسَابَقَةِ الرِّيَاضِيَّاتِ القُطْرِيَّةِ الثَّالِثَةِ وَالعِشْرِينَ لِلصَّفِّ الثَّانِي

| رَقْمُ السُّؤَالِ | ضَعْ دَائِرَةً حَوْلَ الحَرْفِ الَّذِي يُمَثِّلُ الإِجَابَةَ الصَّحِيحَةَ | | |
|-------------------|---|---|---|
| 1 | أ | ب | ج |
| 2 | أ | ب | ج |
| 3 | أ | ب | ج |
| 4 | أ | ب | ج |
| 5 | أ | ب | ج |
| 6 | أ | ب | ج |
| 7 | أ | ب | ج |
| 8 | أ | ب | ج |
| 9 | أ | ب | ج |
| 10 | أ | ب | ج |
| 11 | أ | ب | ج |
| 12 | أ | ب | ج |
| 13 | أ | ب | ج |
| 14 | أ | ب | ج |
| 15 | أ | ب | ج |
| 16 | أ | ب | ج |
| 17 | أ | ب | ج |
| 18 | أ | ب | ج |
| 19 | أ | ب | ج |
| 20 | أ | ب | ج |
| 21 | أ | ب | ج |
| 22 | أ | ب | ج |
| 23 | أ | ب | ج |
| 24 | أ | ب | ج |
| 25 | أ | ب | ج |
| 26 | أ | ب | ج |
| 27 | أ | ب | ج |
| 28 | أ | ب | ج |
| 29 | أ | ب | ج |
| 30 | أ | ب | ج |



جَمْعِيَّةُ إِبداعٍ لِتَطْوِيرِ الثَّقَافَةِ وَالتَّعْلِيمِ
مُسَابَقَةُ الرِّياضِيَّاتِ القُطْرِيَّةِ الثَّالِثَةُ وَالعِشْرُونَ
لِلصَّفِّ الثَّانِي 2023 - 2024



جَمْعِيَّةُ إِبداعِ لِتَطْوِيرِ الثَّقَافَةِ وَالتَّعْلِيمِ
مُسَابَقَةُ الرِّياضِيَّاتِ القُطْرِيَّةِ الثَّالِثَةُ وَالعِشْرُونَ
لِلصَّفِّ الثَّانِي 2023 - 2024

